

ВАРИАНТ 3

ШИФР

БЛОК I (вопросы 1-40)

При выполнении заданий этого блока выберите **ОДИН ПРАВИЛЬНЫЙ ОТВЕТ** и отметьте его знаком «X» в листе ответов

1. Какое из перечисленных государств по форме правления является монархией?

- А - Франция
- Б- Португалия
- В- Испания
- Г- Финляндия

2. Какая из перечисленных стран находится в Африке?

- А - Боливия
- Б- Таиланд
- В- Непал
- Г- Танзания

3. Какая пара стран имеет унитарную форму территориального устройства?

- А- Италия, Германия
- Б- Армения, Латвия
- В- Япония, США
- Г- Россия, Индия

4. В какой из перечисленных стран Африки численность населения наибольшая?

- А- Ливия
- Б- Эфиопия
- В- Нигерия
- Г- Конго

5. К новым индустриальным странам (НИС) относится:

- А- Сингапур
- Б- Камерун
- В- Мексика
- Г- Иран

6. Какие из перечисленных природных ресурсов относятся к неисчерпаемым?

- А- руды металлов
- Б- нефть и газ
- В- биологические
- Г- солнечная энергия

7. В какой из стран доля ГЭС в производстве электроэнергии наибольшая?

- А - Саудовская Аравия
- Б – Бразилия
- В - Польша
- Г - Франция

8. В каком из перечисленных регионов РФ показатель естественного прироста населения наиболее низкий?

- А- Республика Дагестан
- Б- Республика Саха (Якутия)
- В- Республика Ингушетия
- Г- Псковская область

9. Народы Урала являются:

- А – татары и уйгуры
- Б - башкиры и удмурты
- В- кумыки и карелы
- Г- хакасы и буряты

10. Какой угольный бассейн лидирует по объемам добычи бурого угля:

- А - Кузнецкий
- Б - Южно-Якутский
- В- Печерский
- Г- Канско-Ачинский

11. Какой из городов Западной Сибири является крупнейшим по населения?

- А - Новосибирск
- Б - Барнаул
- В- Томск
- Г- Тюмень

12. В каком из экономических районов России производится больше алюминия

- А - Центральный
- Б - Восточно-Сибирский
- В- Северный
- Г- Западно-Сибирский

13. В южной части Западно-Сибирской низменности имеются крупные залежи:

- А - калийных солей
- Б - фосфоритов
- В- каменного угля
- Г- нефти

14. Крупными центрами автомобилестроения в России являются города:

- А - Нижний Новгород и Ульяновск
- Б - Набережные Челны и Тольятти
- В- Томск и Череповец
- Г- Астрахань и Тверь

15. Какой из перечисленных районов отличается высоким уровнем развития судостроения?

- А - Северо-Западный
- Б - Уральский
- В- Северо-Кавказский
- Г- Западно-Сибирский

16. В какой из перечисленных республик РФ плотность населения наибольшая?

- А- Татарстан
- Б- Бурятия
- В- Карелия
- Г- Коми

17. Республика Бурятия расположена

- А- в Поволжье
- Б- в Сибири
- В- на Кавказе
- Г- на Урале

18. В каком экономическом районе России в структуре выработки электроэнергии преобладают ГЭС?

- А- Уральском
- Б- Центральном
- В- Западно-Сибирском
- Г- Восточно-Сибирском

19. Какой из городов является крупным центром цветной металлургии?

- А- Магнитогорск
- Б- Казань
- В- Норильск
- Г- Череповец

20. В каком из районов выплавляется большая часть алюминия РФ?

- А- Восточно-Сибирском
- Б- Дальневосточном
- В- Северном
- Г- Уральском

21. В какой из областей молочное скотоводство – отрасль специализации

- А- Архангельской
- Б- Астраханской
- В- Читинской
- Г- Вологодской

22. В каком из перечисленных регионов агропромышленный комплекс имеет наибольшее значение в структуре хозяйства?

- А- Московской области
- Б- Кемеровской области
- В- Краснодарском крае
- Г- Самарской области

24. В какой из перечисленных стран доля стариков в возрастной структуре населения наибольшая?

- А- Франция
- Б- Пакистан
- В- Аргентина
- Г- Нигерия

25. Установите верное соответствие

- А – овцеводство- Швеция
- Б - мясное скотоводство - Финляндия
- В - свиноводство - Турция
- Г - молочное скотоводство - Нидерланды

26.Какая из перечисленных стран обладает крупными запасами бокситов?

- А- Египет
- Б- Ямайка
- В- Италия
- Г- Япония

27. В какой из перечисленных стран в настоящее время число иммигрантов превышает число местных жителей?

- А- Кувейт
- Б- Германия
- В- Франция
- Г- Китай

28. Ведущими южными странами по заготовке древесины являются:

- А. Мексика, Бразилия, Аргентина
- Б. Мексика, Эфиопия, Афганистан
- В. Бразилия, Индия, Индонезия
- Г. Россия, Канада, Швеция

29. Выберите высказывание, где идет речь об отрасли специализации

- А) Развитые страны имеют высокие душевые показатели ВВП
- Б)В странах Латинской Америки сосредоточено основное производство бананов
- В) Индонезия и Малайзия относятся к новым индустриальным странам (НИС)

30. Верующие в Кувейте исповедует:

- А - ислам
- Б - буддизм
- В- христианство
- Г- индуизм

31. К новым индустриальным странам (НИС) относятся:

- А - Великобритания, Франция, Италия
- Б - США и Канада
- В - Южная Корея, Малайзия, Индонезия
- Г - Япония и Китай

23. Главным фактором размещения черной металлургии в Центрально-Черноземном районе является наличие:

- А- водных ресурсов
- Б- развитой транспортной сети
- В- высококвалифицированных кадров
- Г- сырьевой базы

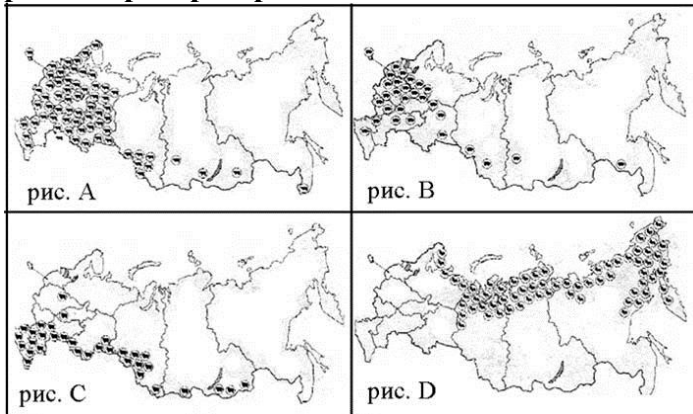
33. Крупнейшей по численности населения после России страной СНГ является:

- А - Грузия
- Б - Белоруссия
- В- Казахстан
- Г- Украина

34. Крупным центром цветной металлургии Северного района является

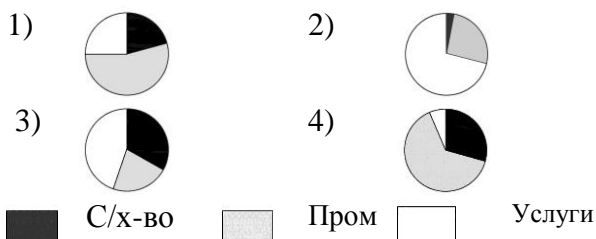
- А- Мончегорск
- Б- Петрозаводск
- В- Череповец
- Г- Воркута

35. На каком рисунке правильно показаны районы распространения овцеводства в РФ?



А- рис.А, Б - рис.В , В – рис.С Г – рис D

36. На какой диаграмме правильно показана отраслевая структура хозяйства Франции?



А – 1 В- 3
Б- 2 Г - 4

32. Уральский экономический район занимает 1-ое место в РФ по производству

- А- электроэнергии
- Б- нефти и газа
- В- чугуна и стали
- Г- легковых автомобилей

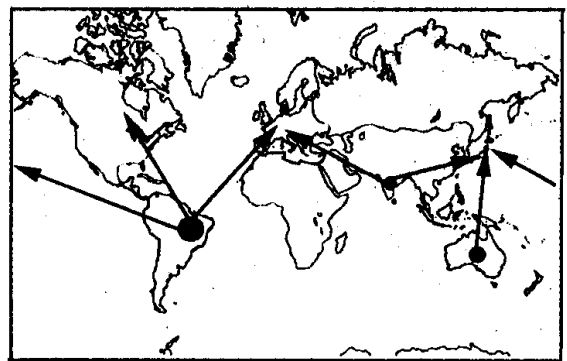
37. Большая часть населения Восточной Европы относится к языковой группе:

- А - романской
- Б - балтийской
- В- славянской
- Г- германской

38. Отраслевым объединением является:

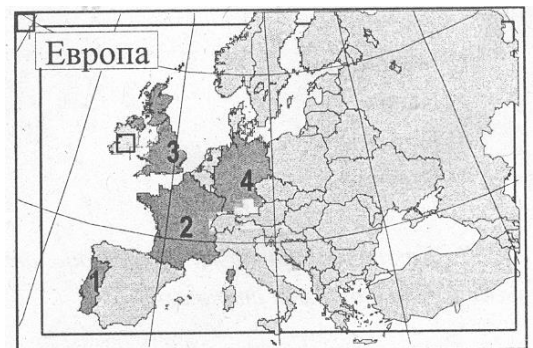
- А- НАФТА (Североамериканская ассоциация)
- Б- ОПЕК
- В- НАТО
- Г- ЛАИ (Латиноамериканская интеграция)

39. Грузопотоки – «мосты», какого вида сырья показаны на карте:



- А- угля
- Б - медной руды
- В - нефти и газа
- Г - железной руды

40. Какая из стран Европы является федеративной республикой.



А - 4 Б - 3 В - 2 Г - 1

БЛОК 2 (вопросы 41-60)

При выполнении заданий этого блока **УКАЖИТЕ ПРАВИЛЬНУЮ ПОСЛЕДОВАТЕЛЬНОСТЬ БУКВ** и впишите ее в лист ответов.

41. Какие две отрасли НЕ являются отраслями специализации Германии

- А- автомобилестроение
- Б- цветная металлургия
- В- станкостроение
- Г- нефтедобыча

42. Установите соответствие между полезными ископаемыми и странами, специализирующимися на их добыче, записав последовательность букв:

- 1- олово А - Катар и Кувейт
- 2 - нефть Б - ДР Конго и Замбия
- 3- медь В - Малайзия и Таиланд
- 4- железо Г - Австралия и Бразилия

43. Расположите страны Европы в порядке возрастания в них численности населения:

- А- Швеция
- Б- Польша
- В- Молдавия
- Г- Франция

47. Выберите два района РФ в составе которых **НЕТ национальных республик:**

- А – Центральный
- Б - Северо- Кавказский
- В- Северный
- Г- Центрально-Черноземный
- Д- Уральский
- Е- Поволжский

48. Распределите страны по убыванию уровня обеспеченности газом, записав последовательность букв

Страна	Запасы газа	Добыча газа
А. США	5,29 трлн м ³	540 млрд м ³
Б. Нидерланды	1,5 трлн м ³	68 млрд м ³
В. Туркменистан	2,9 трлн м ³	55 млрд м ³

49. Установите соответствие стран, записав последовательность букв.



- 1 – Судан
- 2 - Ангола
- 3 - Конго
- 4- Нигер

44. Выберите среди народов России два, относящихся к алтайской языковой семье

- А - хакасы
- Б - манси
- В-калмыки
- Г- карелы

45. Выберите из предложенного списка три района, где выращивают кукурузу в России

- А - Центральный
- Б - Северо-Кавказский
- В- Поволжский
- Г- Волго-Вятский
- Д- Центрально-Черноземный
- Е- Дальневосточный

46. Расположите районы России в порядке убывания в них уровня урбанизации:

- А- Центральный
- Б- Северо-Кавказский
- В- Центрально-Черноземный
- Г- Северный

53. Выберите три вида транспорта, доля в грузообороте РФ наименее велика:

- А - морской
- Б - речной
- В- трубопроводный
- Г- железнодорожный
- Д- автомобильный
- Е- воздушный

54. Выберите три города РФ – центры тракторостроения:

- А - Екатеринбург
- Б - Челябинск
- В- Волгоград
- Г- Воронеж
- Д- Саратов
- Е- Петрозаводск

55. Установите соответствие, записав последовательность букв.



- 1- Псковская область
- 2- Мурманская область
- 3 - Оренбургская область

50. Выбираете два высказывания, в которых речь идет о миграциях населения

- А- Нефтедобывающие страны Ю-З Азии за последние десятилетия стали центрами притяжения трудовых ресурсов из менее развитых стран региона
Б- На побережье проживает 9/10 населения Бразилии
В- Основная часть населения Японии проживает в больших городах и агломерациях
Г- Населения Израиля на 2/3 увеличилось за счет евреев из России и стран СНГ

51. Установите соответствие: «отрасль специализацией растениеводства – страна»

1. Зерновые А. Польша, Россия, Китай
2. Картофель Б. Индия, Куба, Бразилия, Украина
3. Сахар В. Китай, США, Индия, Россия

52. Установите соответствие: «отрасль химической промышленности – страна»

- 1-Пластмассы А- Россия, Китай, Марокко, Индия
2 -Удобрения Б - США Япония, ФРГ
3-Нефтехимия В- Канада, Россия, Финляндия
4 -Лесохимия Г - Мексика, Венесуэла, ОАЭ

59. Выберите среди перечисленных три страны, в которых выращивают виноград:

- А - Белоруссия
Б - Грузия
В- Армения
Г- Эстония
Д- Молдавия
Е- Латвия

56. Выбираете два высказывания, где верно указана специализация районов РФ

- А - Центральный район обеспечен собственной минерально-сырьевой базой
Б - Судостроение – отрасль специализации Северо - Западного района
В - Черная металлургия – отрасль специализации Центрально-Черноземного района
Г- Северный район обладает благоприятными условиями для развития сельского хозяйства

57. Выберите три страны, где судостроение является отраслью специализации

- А. Япония
Б. Египет
В. Норвегия
Г. Аргентина
Д. Республика Корея
Е. Словакия

58. Определите две отрасли специализации Центрально-Черноземного района

- А – целлюлозно-бумажная
Б - производство минеральных удобрений
В- автомобилестроение
Г- пищевая промышленность

60. Выберите среди перечисленных городов три столицы республик в составе РФ

- А - Пермь
Б - Уфа
В- Майкоп
Г- Благовещенск
Д- Кызыл
Е- Краснодар

БЛОК 3 (вопросы 61-65)

При выполнении заданий этого блока ЗАПИШИ ПРАВИЛЬНЫЙ ОТВЕТ в лист ответа

Определите страны мира по краткому описанию:

61. «Это страна в Азии - федеративная республика, бывшая колония Великобритании, сегодня ядерная держава. Столица не является крупнейший город страны. Отрасли специализации – выращивание хлопчатника и производство хлопчатобумажных тканей.»

62. «Эта страна Латинской Америки — вторая по площади территории на материке, расположена в трех климатических поясах, бывшая испанская колония. Особенностью страны является высокий уровень ее урбанизации (83%). В столице проживает почти половина ее населения. Природные ресурсы разнообразны: имеются запасы нефти, природного газа, руд цветных металлов, плодородные степные почвы. Страна занимает ведущее место по экспорту пшеницы и говядины»

63. «Эта страна имеет самую большую по численности населения католическая страна Восточной Европы, население которой характеризуется этнонациональным составом, Это индустриально-аграрная страна. Занимает одно из ведущих мест в мире по производству рыболовных судов. В сельском хозяйстве преобладает растениеводство. Страна — крупный производитель сахарной свеклы, картофеля, капусты.»

Определите регионы России по краткому описанию.

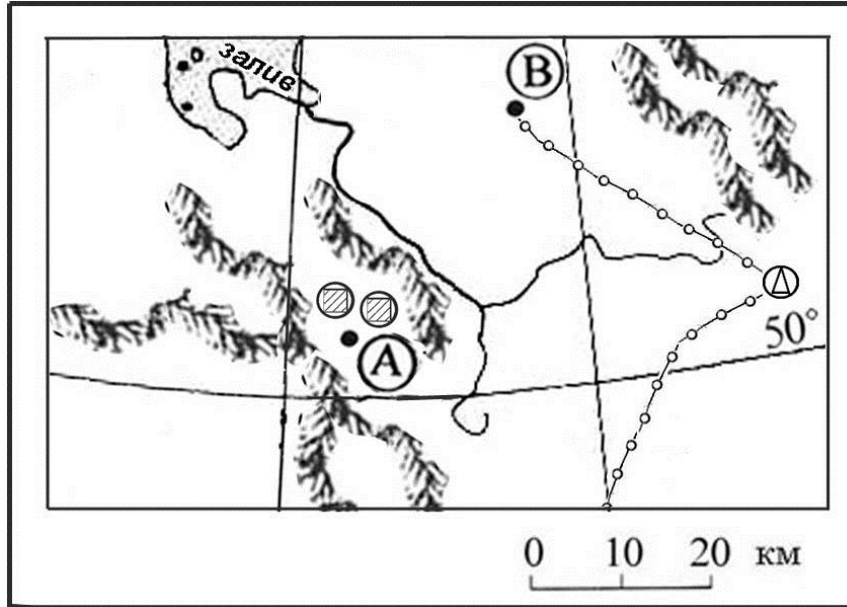
64. «Этот экономический район отличает крайне разнообразный национальный состав населения, среди верующего населения преобладают мусульмане. Экономическая специализация базируется в основном на развитом АПК, в основе которого лежит разнообразное сельское хозяйство. В промышленном производстве выделяется цветная металлургия и сельскохозяйственное машиностроение и тракторостроение.»

65. «Эта республика РФ граничит с тремя странами. Единственное городское поселение — столица, в которой проживает около 1/2 населения республики. Как и большинство горных территорий, она заселена крайне неравномерно: большая часть сел и деревень располагается вдоль рек, а также в межгорных котловинах. В республике сохраняется положительная динамика численности как городского, так и сельского населения. Ведущая отрасль экономики - сельское хозяйство. Доля промышленности в структуре экономики одна из самых низких в стране. Развиты пищевая промышленность, добыча руд цветных металлов, производство строительных материалов.»

БЛОК 4 (вопросы 66-69)

При выполнении заданий этого блока ЗАПИШИ ПРАВИЛЬНЫЙ ОТВЕТ в лист ответа

66. В каком из пунктов, обозначенных на карте буквами А и В, существует бóльшая опасность сильного загрязнения атмосферы в результате работы действующих в них ТЭС? Свой ответ обоснуйте. Для обоснования своего ответа приведите два довода. Если Вы приведете более двух доводов, оцениваться будут только два, указанных первыми

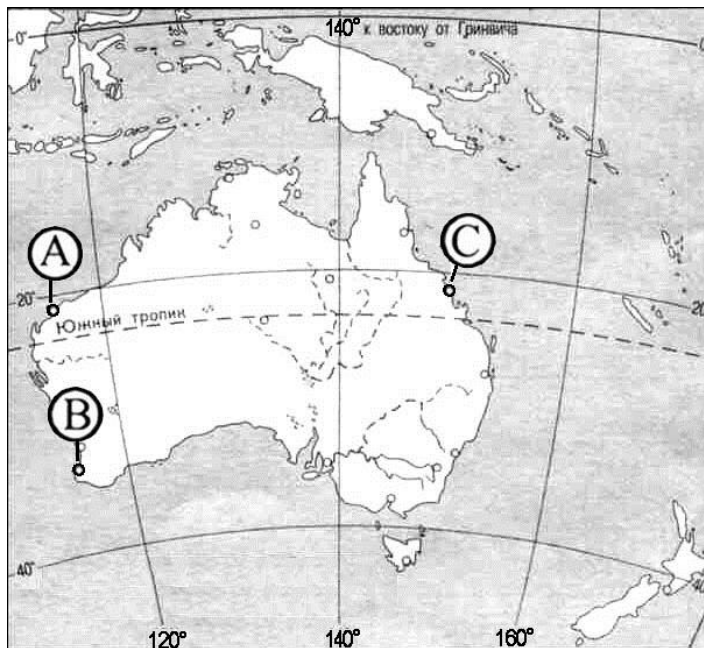


67. Используя данные таблицы, приведенной ниже, сравните доли сельского хозяйства в ВВП и доли сельского хозяйства в общих объемах экспорта Греции и ДР Конго. Сделайте вывод о том, в какой из этих стран сельское хозяйство играет бóльшую роль в экономике. Для обоснования своего ответа запишите необходимые числовые данные или вычисления.

Социально-экономические показатели развития Греции и ДР Конго в 2007 г.

Страна	Численность населения, млн чел.	Доля городского населения, %	Объем ВВП, млрд долл.	Отраслевая структура ВВП, %			Общий объем экспорта, млрд долл.	Объем сельскохозяйственного экспорта, млрд долл.
				Сельское хозяйство	Промышленность	Сфера услуг		
Греция	11,0	60	252	5	20	75	24	4,5
ДР Конго	65,7	33	45	55	11	34	1,2	0,4

68. Определите, в каком из пунктов, обозначенных буквами на карте Австралии, 1 января Солнце **позже** (по времени Гринвичского меридиана) поднимется над горизонтом. Запишите обоснование вашего ответа.



69. На численность населения субъектов Российской Федерации заметное влияние оказывают как естественное движение населения, так и миграции. В таблице приведены данные, взятые с официального сайта Федеральной службы государственной статистики.

Численность и естественный прирост населения Челябинской области

Показатель	2011 г.	2012 г.	2013 г.
Численность постоянного населения на 1 января , человек	3 475 634	3 480 142	3 485 272
Среднегодовая численность населения, человек	3 477 888	3 482 707	Нет данных
Естественный прирост населения, человек, значение показателя за год	-2064	470	Нет данных

Проанализировав эти данные, определите:

- 1) показатель естественного прироста населения в ‰ в 2012 г. для Челябинской области. При расчётах используйте показатель среднегодовой численности населения. Полученный результат округлите до десятых долей промилле;
- 2) величину миграционного прироста (убыли) населения Челябинской области в 2012 г. Запишите решение задачи.